

MATBEG

MATEMATİKSEL MUHAKEME SERİSİ

ÖRÜNTÜ

GENELLEME

İSPAT

5 VE 6. SINIF

TEKRARLANAN ÖRÜNTÜLER

12 Problem 10
3

a

A, A, D, D, F, F, H, H, K, K, A, A, D, D, F, F, H, H, K, K, ?

Aşağıdaki problemleri verilen örüntüye göre yanıtlayınız.

“?” yerine gelmesi gereken harfi işaretleyiniz.

A

D

F

H

K

24. harfi yazınız.

Cevabınız

56. harfi yazınız.

Cevabınız

b

2, 4, 4, 6, 8, 2, 4, 4, 6, 8, 2, 4, 4, 6, 8, ?

Aşağıdaki problemleri verilen örüntüye göre yanıtlayınız.

“?” yerine gelmesi gereken sayıyı işaretleyiniz.

2

4

6

8

10

37. sayıyı yazınız.

Cevabınız

89. sayıyı yazınız.

Cevabınız

ŞEKİL ÖRÜNTÜLERİ

12 Problem 11
3

a

“?” yerine gelmesi gereken şekli işaretleyiniz.

b

“?” yerine gelmesi gereken şekli işaretleyiniz.

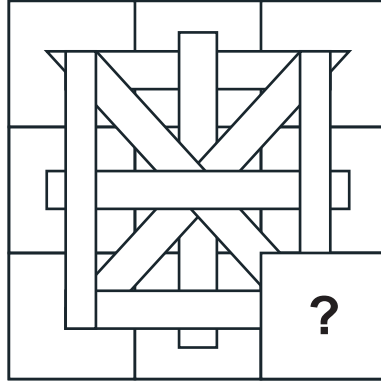
68. şekli işaretleyiniz.

c

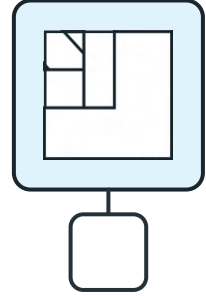
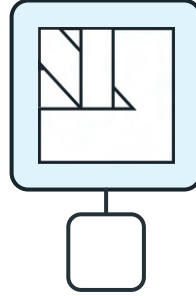
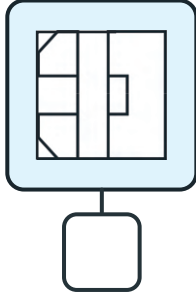
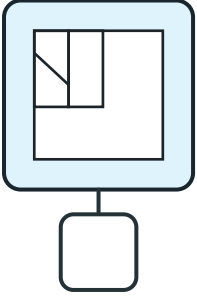
“?” yerine gelmesi gereken şekli işaretleyiniz.

75. şekli işaretleyiniz.


12 Problem 22
3



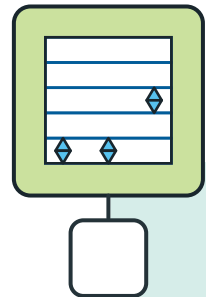
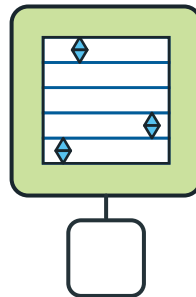
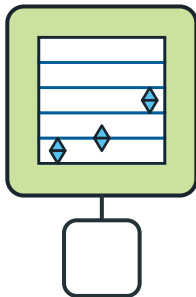
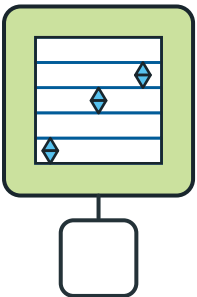
"?" yerine gelmesi gereken parçayı işaretleyiniz.



12 Problem 23
3



"?" yerine gelmesi gereken parçayı işaretleyiniz.

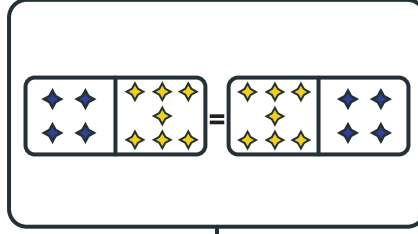


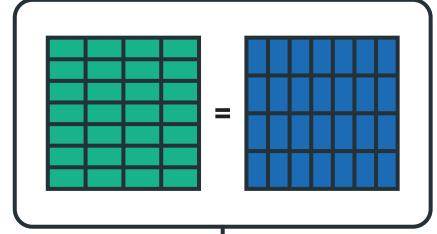


Problem 48

Aşağıdakilerden hangisi $4 \times 7 = 7 \times 4$ eşitliğini göstermektedir? İşaretleyiniz.



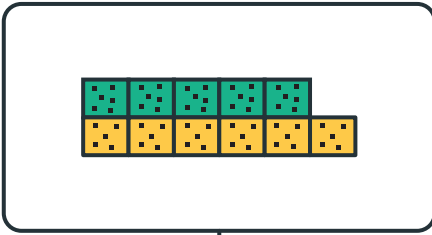


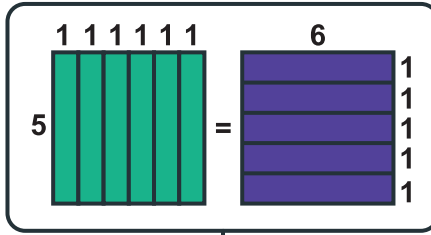




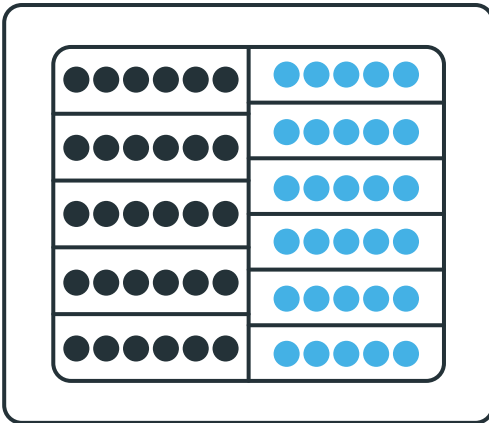
Problem 49

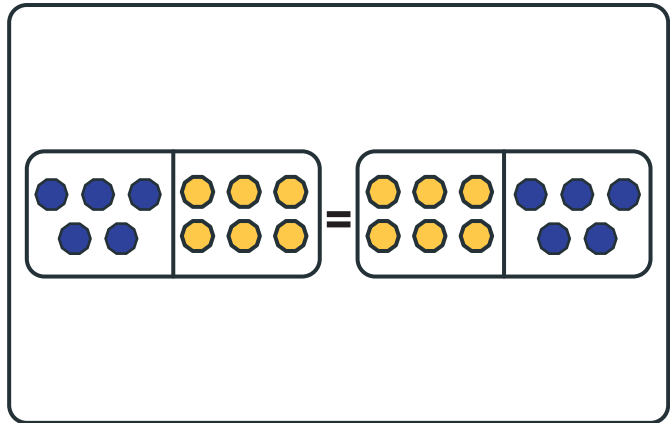
Aşağıdakilerden hangisi ya da hangileri $5 \times 6 = 6 \times 5$ eşitliğini göstermektedir? İşaretleyiniz.













www.matbe9.com



©   /matbe9tr